

小・社

平成20年度 学習状況調査問題

小学校第5学年社会

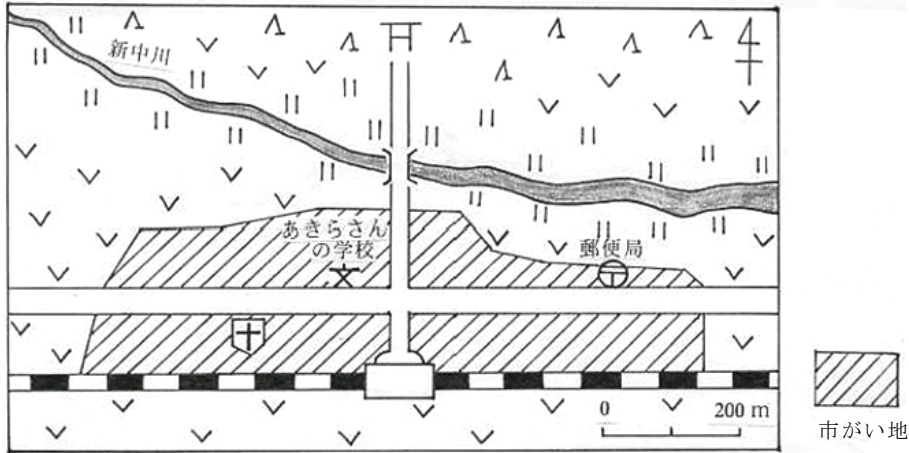
組	番	氏名	
---	---	----	--

注 意

- 1 つくえの上には、えんぴつ、消しゴム、定規、コンパス、下じき以外の物を、おかないでください。
- 2 表紙の決められたところに、組、番号、氏名を書いてください。
- 3 時間は45分間です。
- 4 答えは、かならず、答えのらんに書いてください。答えのらんの右にある()は先生用ですから、なにも書かないでください。
- 5 印刷がはっきりしないときは、手をあげて先生に知らせてください。
- 6 わからない問題はあとまわしにして、ひととおりにやってから、もう一度考えてください。
- 7 時間があまったら、よくみなおしてください。

栃木県教育委員会

- 1 次の地図は、あきらさんの学校の周りの様子を表しています。地図を見て、次の1, 2, 3, 4の間に答えなさい。



- 1 あきらさんの学校から見て、郵便局ゆうびんきょくはどの方角にありますか。次の1, 2, 3, 4の中から一つ選んで、その番号を○で囲みなさい。

1 北 2 南 3 東 4 西

1の答え

1	2	3	4
---	---	---	---

①

- 2 あきらさんの学校から郵便局までのきよりはおよそ何メートルですか。次の1, 2, 3, 4の中から一つ選んで、その番号を○で囲みなさい。

1 200メートル 2 300メートル 3 400メートル 4 500メートル

2の答え

1	2	3	4
---	---	---	---

②

- 3 地図の中にある下の二つの記号は何と何を表していますか。次の1, 2, 3, 4の中から一つ選んで、その番号を○で囲みなさい。



1 神社と交番 2 神社と病院 3 寺と交番 4 寺と病院

3の答え

1	2	3	4
---	---	---	---

③

- 4 地図から分かる土地利用の様子を正しくのべた文はどれですか。次の1, 2, 3, 4の中から一つ選んで、その番号を○で囲みなさい。

- 1 川のそばには田が多く、その外側には畑が多い。
 2 川のそばには店や住たくが多く、その外側には田や畑が多い。
 3 駅や鉄道のそばには田や畑が多く、川のそばには林が多い。
 4 駅や鉄道のそばには林が多く、川のそばには田が多い。

4の答え

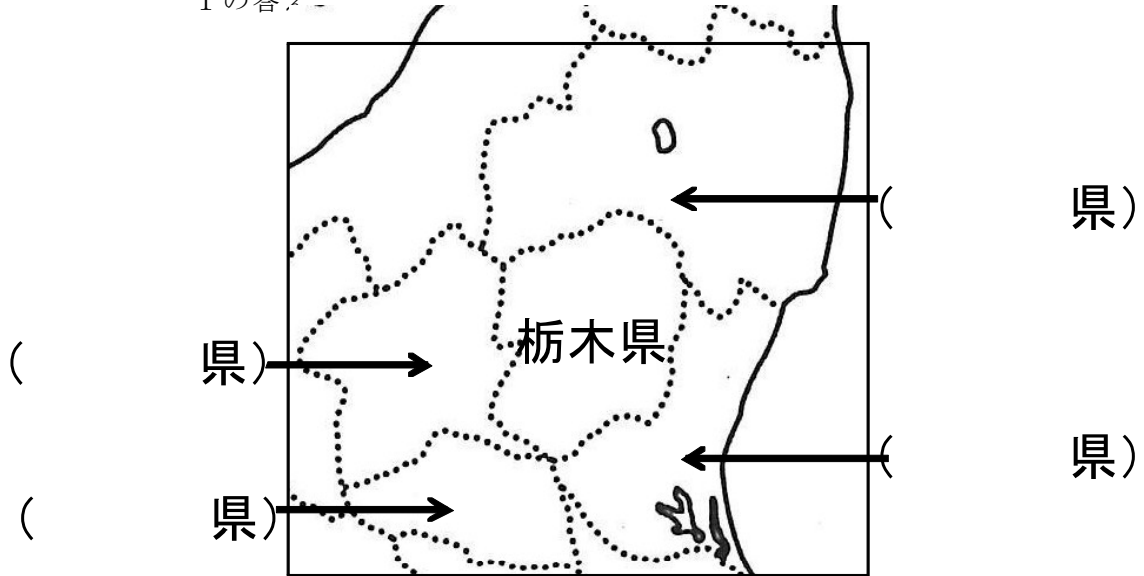
1	2	3	4
---	---	---	---

④

2 次の1, 2, 3, 4の問いに答えなさい。

1 下の図は、栃木県と周りの県を表しています。()の中にあてはまる県の名前を書き入れなさい。(ひらがなでもよい。)

1の答え-



⑤

2 栃木県の土地の様子について正しくのべた文はどれですか。次の1, 2, 3, 4の中から一つ選んで、その番号を○で囲みなさい。

- 1 南から東のほうに山が多く、西のほうに平地が広がっている。
- 2 北と南のほうに山が多く、中ほどに平地が広がっている。
- 3 北から西のほうに山が多く、中ほどから南のほうに平地が広がっている。
- 4 南のほうに山が多く、北のほうに平地が広がっている。

2の答え

1 2 3 4

⑥

3 次の資料は、栃木県の農業に関するものです。資料を見て分かることを正しくのべた文は、どれとどれですか。次の1, 2, 3, 4の中から一つ選んで、その番号を○で囲みなさい。

1 位	2 位	3 位
いちご	二条大麦	シクラメン
かんぴょう	にら	六条大麦
	乳用牛	

①生産量が全国の上位3位までに入る栃木県の農産物

②おもな農産物の作付面積
(「とちぎの食と農業 平成20年度版」より)

- ア いちごの生産量は、全国1位である。
- イ かんぴょうの生産量は全国1位だが、その量は年々へっている。
- ウ 米を作っている農家の数は、約67000戸である。
- エ 米の作付面積は、麦の作付面積の約5倍である。

1 **アとイ** 2 **ウとエ** 3 **アとエ** 4 **イとウ**

3の答え

1	2	3	4
---	---	---	---

⑦

4 たくやさんのクラスでは、栃木県の^{とう}伝統工芸品をつくっている人々の努力について調べることにしました。調べ方として^{もつと}最もふさわしいものを、次の1, 2, 3, 4の中から一つ選んで、その番号を○で囲みなさい。

- 1 市役所や役場に電話をして、その地域の地図を送ってもらう。
- 2 図書館で本を借りて、日本の歴史について調べる。
- 3 家にある^{とう}伝とう工芸品を持ちよって、使い方などを紹介する。
- 4 ^{とう}伝とう工芸品をつくっている工場を見学して、働いている人に質問する。

4の答え

1	2	3	4
---	---	---	---

⑧

3 次の1から7の問いに答えなさい。

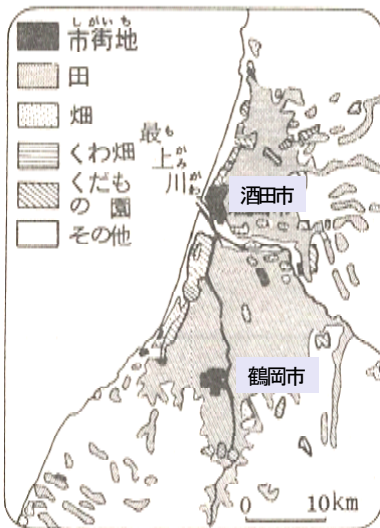
1 庄内平野はどこですか。次の地図の1, 2, 3, 4の中から一つ選んで、その番号を○で囲みなさい。



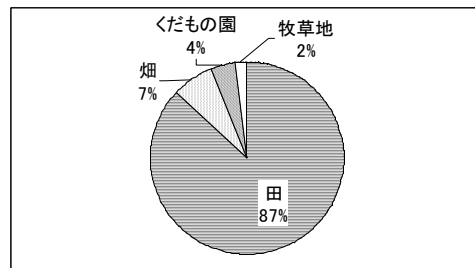
1の答え

1	2	3	4	<input checked="" type="radio"/> ⑨
---	---	---	---	------------------------------------

2 次の資料は、庄内平野の農業に関するものです。【資料から分かったこと】の□にあてはまるものを、次の1, 2, 3, 4の中から一つ選んで、その番号を○で囲みなさい。



庄内平野の土地利用



耕地の利用のようす (庄内経済連資料より)

3月	4月	5月	6月	7月	8月	9月	10月			
種を選ぶ	苗を育てる	田を肥たがやす	しろをかき	田植	草とり	葉をまく	肥料をまく	みぞをほる	いねかり	たい肥づくり

庄内平野の米づくり農家の仕事

【資料から分かったこと】

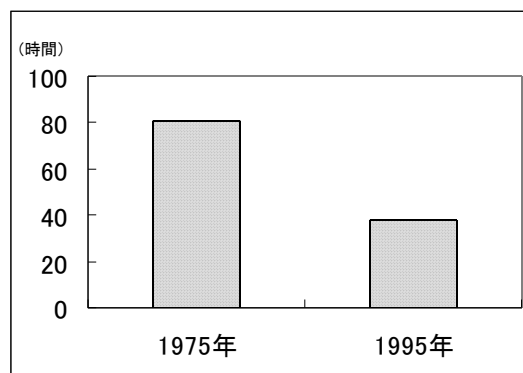
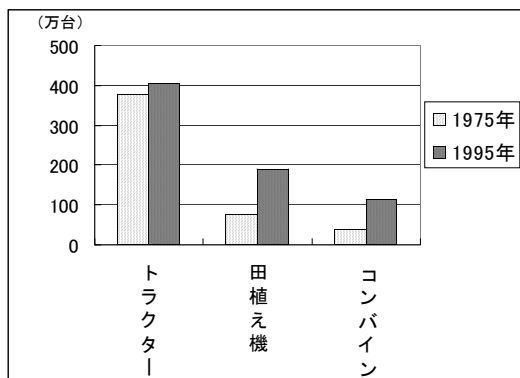
<input type="radio"/> 耕地面積の9割近くが田で、米づくりがさかんである。 <input type="radio"/> 最上川流域には、田が広がっている。 <input type="radio"/> □

- おいしい米をつくるために、米の品種改良が行われている。
- 豊富な雪どけ水を利用した米づくりが行われている。
- いねかりが終わると、たい肥づくりが行われている。
- つくられた米は、温度などに気をつけて保管されている。

2の答え

1	2	3	4	<input checked="" type="radio"/> ⑩
---	---	---	---	------------------------------------

3 次の二つの資料を見て、農業機械の数と農作業にかかる時間との関係について分かることを書きなさい。

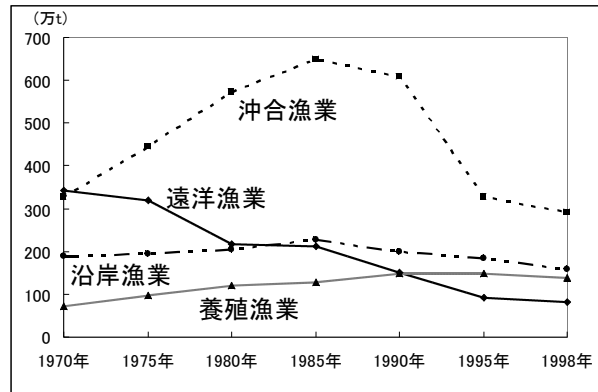


日本で使われている農業機械の数 米づくり農家の農作業にかかる時間（10aあたり）
 （農林水産省統計表より）

3の答え

4 次のグラフは、日本の水産業の漁業別のとれ高の変化を表したものです。1977年（昭和52年）ごろから200海里水域の制限で大きな影響を受け、とれ高がへったのはどれですか。次の1, 2, 3, 4の中から一つ選んで、その番号を○で囲みなさい。

- 1 沖合漁業
- 2 遠洋漁業
- 3 沿岸漁業
- 4 養殖漁業



漁業別のとれ高の変化（「数字で見る日本の100年」より）

4の答え

1 2 3 4

⑫

5 養殖漁業のよい点をのべている文はどれですか。次の1, 2, 3, 4の中から一つ選んで、その番号を○で囲みなさい

- 1 魚を計画的に育てるので、収入が安定する。
- 2 自然に育つので、育てる手間がかからない。
- 3 えさが豊富なので、えさ代がかからない。
- 4 作業は屋内で行うので、病気の心配がない。

5の答え

1 2 3 4

⑬

6 次の4枚のカードは、農業や水産業で働く人々の仕事についてまとめたものです。農業と水産業の両方にあてはまる組み合わせを、次の1, 2, 3, 4の中から一つ選んで、その番号を○で囲みなさい。

ア 仕事のために、何週間も家に帰られないことがある。

イ 天気や気温など、天候が仕事に大きく影響する。

ウ 機械を使うようになって、仕事が昔より楽になった。

エ 年間を通して行う草取り作業が、取れ高に大きく影響する。

- 1 アとイ
- 2 ウとエ
- 3 アとエ
- 4 イとウ

6の答え

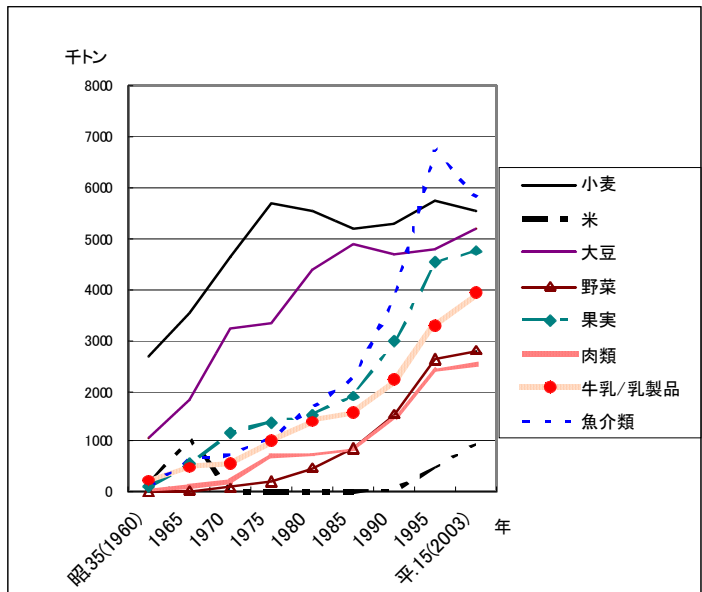
1 2 3 4

⑭

7 日本は、外国からたくさんの食料を輸入しています。右のグラフは、おもな食料の輸入量のうつり変わりを表したものです。

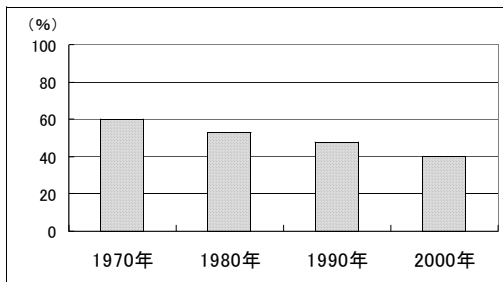
ちひろさんは、グラフを見て、次のように考えました。

これからも、日本は、外国から食料を輸入するとよいと思います。

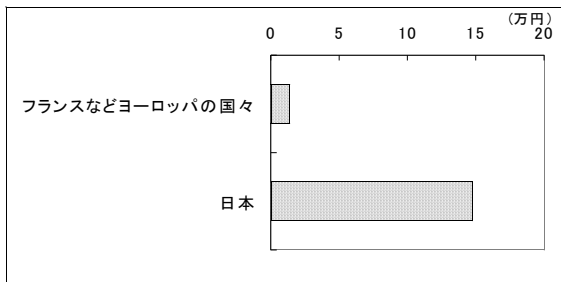


おもな食料の輸入量のうつり変わり (「食料需給表」平成20年より)

あなたは、ちひろさんの考えをどう思いますか。下のグラフを見たりこれまでの学習をふり返ったりして、あなたの考えに近いものを、 の中のア、イ、ウから一つ選び、その記号と選んだ理由を の中に書きなさい。



日本の食料自給率の変化 (「食料受給表」平成12年より)



農家が出荷する小麦 1 t のねだん (食料庁調べ)

	<p>ア ちひろさんの考えに賛成です。</p> <p>イ ちひろさんの考えに反対です。</p> <p>ウ その他の考えです。</p>
--	--------------------------------------------------------------------

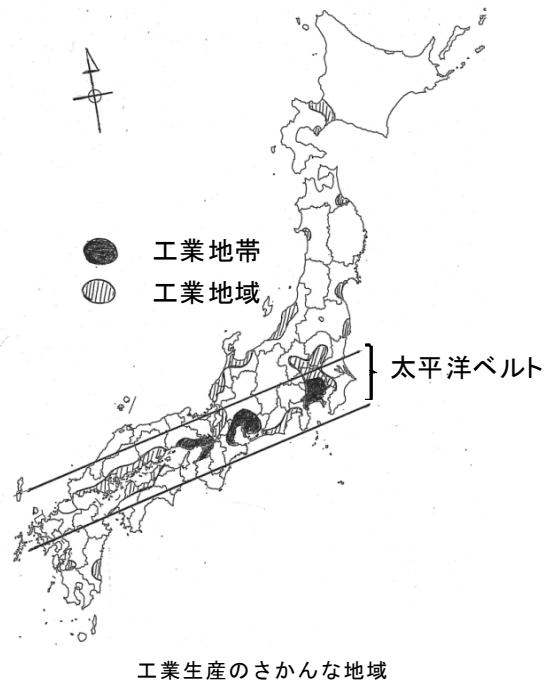
7 の答え

あなたの考えに近い記号	
理由	<p>-----</p> <p>-----</p>

4 次の1から4の問いに答えなさい。

1 右の地図は、工業生産のさかんな地域を表しています。地図を見て、工業のさかんな地域について正しくのべた文はどれですか。次の1, 2, 3, 4の中から一つ選んで、その番号を○で囲みなさい。

- 1 工業地域は、日本海側を中心に広がっていて、太平洋側には見られない。
- 2 工業地域は、海岸からはなれた内陸に多く見られる。
- 3 工業地域は、工業地帯の都市周辺だけに広がっている。
- 4 工業地域は、太平洋ベルトを中心に広がっていて、内陸部にも見られる。



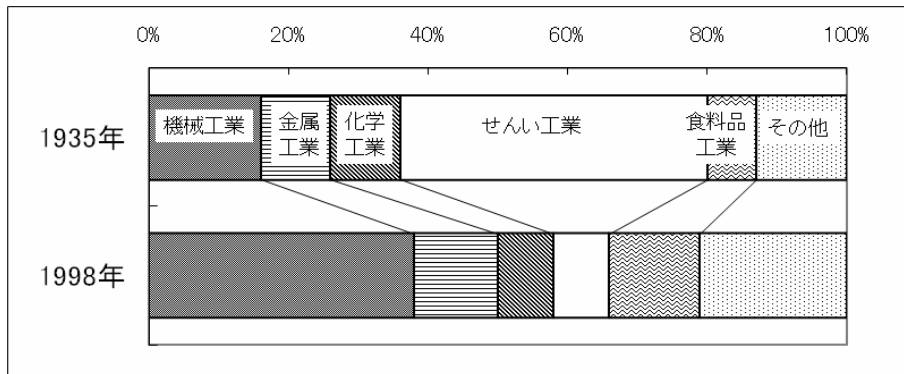
工業生産のさかんな地域

1の答え

1	2	3	4
---	---	---	---

⑩

2 次のグラフは、工業の種類別の生産額^{がく}の割合の変化を表しています。1935年と1998年を比べて分かる大きな変化を の中に書きなさい。

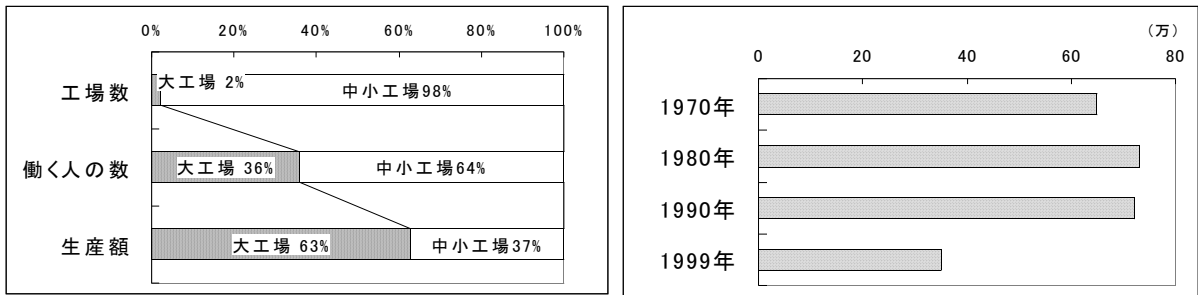


工業の種類別の生産額の割合 (「工業統計表」平成10年より)

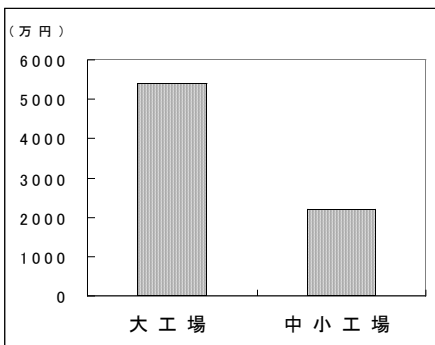
2の答え

⑪

3 次の四つの資料は、あきおさんが、日本の工業の特色について調べるために集めたものです。資料を見て、(1)、(2)の問いに答えなさい。



ア 規模別の工場数・働く人・生産額の割合 (1999年) イ 工場数のうつり変わり



ウ 働く人一人あたりの生産額 (1999年) エ 規模別・種類別の生産額の割合 (1997年)
(日本国勢図会1999/2000、「工業統計表」平成10年より)

(1) 「工場で生産されているもの」について調べることができる資料はどれですか。次の1, 2, 3, 4の中から一つ選んで、その番号を○で囲みなさい。

- 1 ア 2 イ 3 ウ 4 エ

(1)の答え ⑱

(2) あきおさんは、四つの資料のうち二つを見て、次のように考えました。どれとどれを見て考えたのか、正しい組み合わせを、次の1, 2, 3, 4の中から一つ選び、その番号を○で囲みなさい。



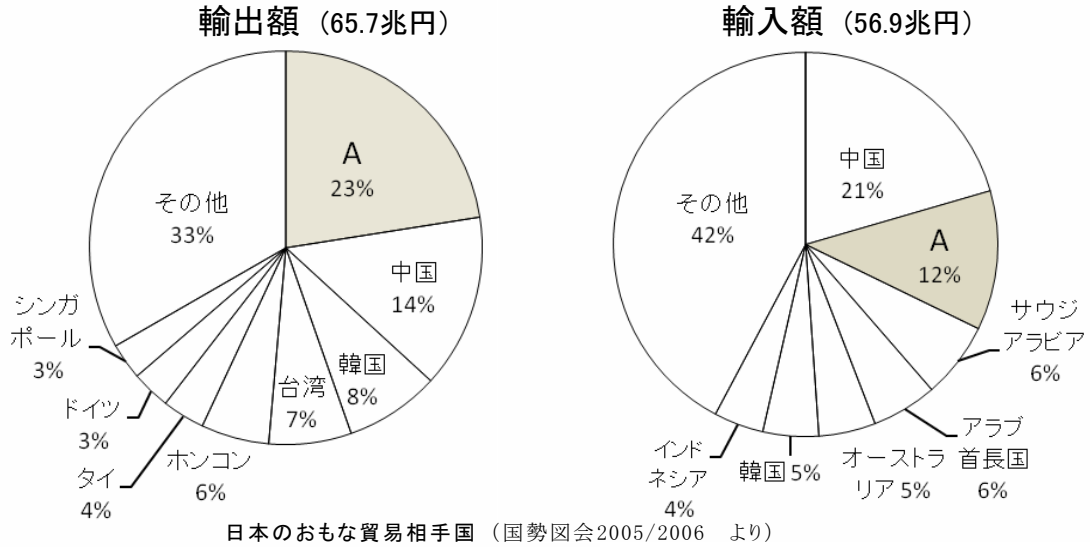
工場数や働く人の数では、大工場は中小工場より割合が小さいけれど、生産額では中小工場より割合が大きくなっている。それは、大工場で働く人一人あたりの生産額は、中小工場で働く人一人あたりの生産額より高いということだね。

- 1 2 3 4

(2)の答え ⑲

4 次の(1), (2)の問いに答えなさい。

(1) 次のグラフは、日本のおもな貿易相手国と輸出入額を表したものです。Aにあてはまる国を [] の 1, 2, 3, 4 の中から一つ選んで、その番号を○で囲みなさい。



- 1 アメリカ合衆国 2 ブラジル 3 フランス 4 インド

(1)の答え

1 2 3 4

⑳

(2) (1)で答えた国は、次の地図のどこにありますか。その部分をえんぴつでぬりなさい。

(2)の答え



㉑

5 次の1, 2の問いに答えなさい。

- 1 あきおさんは、放送局を見学し、ニュース番組を作る人々がどのような工夫や努力をしているのかを調べて、次のようにまとめました。あきおさんの放送局見学メモを見て、あとの問いに答えなさい。

放送局見学メモ

[ニュースが放送されるまで]

- ① 会議を開いて、番組のテーマを決める。
- ② 記者やカメラマンが現地に出かけて、取材をする。
- ③ 現場にいる記者と連絡を取りながら、記事の原こうを何度も書き直したり、記事の内容と合うように映像を編集し直したりする。
- ④ キャスターは、できあがった原こうをただ読むのではなく、記事の内容をよく確かめて自分の考えも言えるよう工夫している。

放送局の人たちが、③のようにしている理由について正しくのべた文はどれですか。次の1, 2, 3, 4の中から一つ選んで、その番号を○で囲みなさい。

- 1 ニュースを放送するまでに時間がたくさんあるから
- 2 情報を分かりやすく正確に伝えたいから
- 3 法律で見直しをする回数が決まっているから
- 4 伝える内容を覚えられるから

1の答え

1 2 3 4

②

- 2 インターネットは、いろいろな情報を得られるだけでなく、自分から情報を発信することもできます。インターネットの正しい活用のしかたについて、のべている文を、次の1, 2, 3, 4の中から一つ選んで、その番号を○で囲みなさい。

- 1 インターネットから自分が選んだ文章や写真などは、自分の文章や写真として自由に使うことができる。
- 2 インターネットでは、相手が見えないので、自分の思っていることは自由にのべることが大切である。
- 3 インターネットでは、自分がほしいものを安くかんたんに買うことができるので、安心して積極的に利用するとよい。
- 4 インターネットでは、相手が見えないので、メールの送り先が正しいかを確認してから送ることが大切である。

2の答え

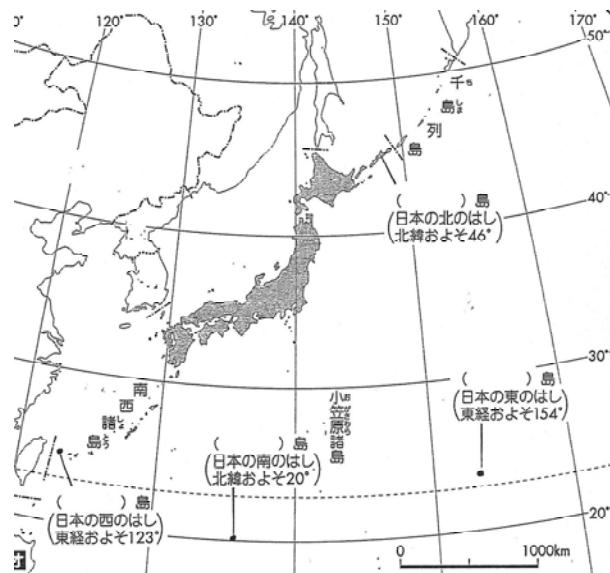
1 2 3 4

③

6 次の1, 2の間に答えなさい。

1 次の図は、日本の国土と周りの様子を表しています。日本の国土について正しくのべた文はどれですか。次の1, 2, 3, 4の中から一つ選んで、その番号を○で囲みなさい。

- 1 日本は、三つの大きな島とその他の島々から成り立っている。
- 2 日本の北のはしは択捉島で、南のはしは沖ノ鳥島である。
- 3 日本は、アジア大陸の西、太平洋の東に広がっている島国である。
- 4 日本の北のはしから南のはしまでのきよりは、約1000 kmである。



1の答え

1	2	3	4
---	---	---	---

Ⓔ

2 海に面している県の正しい組み合わせを、次の1, 2, 3, 4の中から一つ選んで、その番号を○で囲みなさい。

- | 太平洋に面している県 | 日本海に面している県 |
|------------|------------|
| 1 千葉県 | —— 秋田県 |
| 2 愛知県 | —— 千葉県 |
| 3 秋田県 | —— 新潟県 |
| 4 新潟県 | —— 愛知県 |

2の答え

1	2	3	4
---	---	---	---

Ⓕ